

Открытый сосуд заполнен водой. На каком рисунке правильно изображено направление конвекционных потоков при приведенной схеме нагревания?

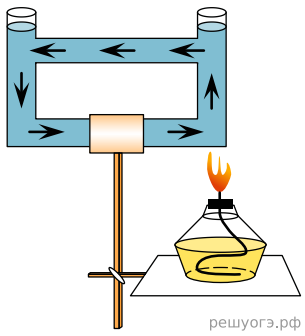


Рис. 1

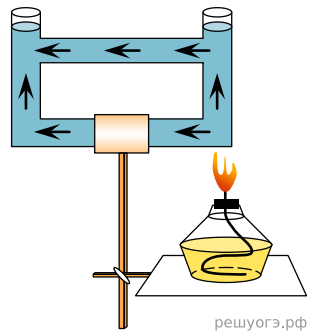


Рис. 2

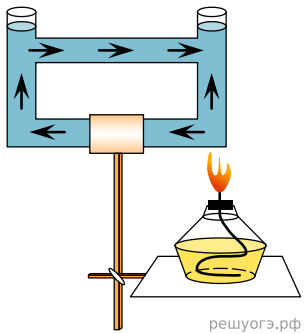


Рис. 3




Рис. 4